



ЭКОНОМИЧЕСКИЙ  
И СОЦИАЛЬНЫЙ СОВЕТ

Distr.  
GENERAL

ECE/TRANS/WP.15/AC.2/2009/15  
21 April 2009

RUSSIAN  
Original: FRENCH

---

ЕВРОПЕЙСКАЯ ЭКОНОМИЧЕСКАЯ КОМИССИЯ

КОМИТЕТ ПО ВНУТРЕННЕМУ ТРАНСПОРТУ

Рабочая группа по перевозкам опасных грузов

Совместное совещание экспертов по Правилам,  
прилагаемым к Европейскому соглашению о  
международной перевозке опасных грузов по  
внутренним водным путям (ВОПОГ)  
(Комитет по вопросам безопасности ВОПОГ)

Пятнадцатая сессия

Женева, 24-28 августа 2009 года

Пункт 5 предварительной повестки дня

КАТАЛОГ ВОПРОСОВ

Перевозки сухогрузными судами, целевая тема 6

Передано Центральной комиссией судоходства по Рейну (ЦКСР)<sup>1</sup>

1. На своей четырнадцатой сессии Комитет по вопросам безопасности ВОПОГ, напомнив о том, что в соответствии с пунктом 8.2.2.7.2.3 Правил, прилагаемых к ВОПОГ, Административный комитет ВОПОГ должен составить каталог вопросов для экзаменов по ВОПОГ, принял решение о том, что этот вопрос необходимо будет включать в повестку

---

<sup>1</sup> Распространено Центральной комиссией судоходства по Рейну (ЦКСР) в качестве документа CCNR/ZKR/ADN/WP.15/AC.2/2009/15.

дня следующих сессий, с тем чтобы можно было постепенно переводить на другие языки и принимать составленные перечни вопросов (ECE/TRANS/WP.15/AC.2/30, пункты 38 и 40).

2. В настоящем документе содержатся предложенные ЦКСР перечни вопросов, касающихся сухогрузных судов и следующей целевой темы:

- Целевой темы 6: Погрузка, разгрузка и перевозка.

**ПЕРЕВОЗКИ СУХОГРУЗНЫМИ СУДАМИ**  
**Целевая тема 6: Погрузка, разгрузка и перевозка**

Номер	Источник	Правильный ответ
СГ 6001	5.2.2.2.2	D



(желтый/белый/черный)

Что означает знак, изображенный выше?

- A Соответствующий опасный груз является легковоспламеняющимся (жидкости).
- B Соответствующий опасный груз является легковоспламеняющимся (твердые вещества).
- C Соответствующий опасный груз является коррозионным.
- D Соответствующий опасный груз является радиоактивным.

СГ 6002	3.3.1, специальное положение 800	C
---------	----------------------------------	---

На судне перевозятся семена масличных культур, мука грубого помола и жмыхи, содержащие растительное масло, обработанные раствором, не способные к самовозгоранию. Подпадает ли этот груз под действие ВОПОГ?

- A Растительные продукты не являются опасным грузом, так как они не упоминаются в ВОПОГ.
- B Да, в любом случае, даже если они так изготовлены или так обработаны, что во время перевозки не могут выделяться опасные газы в опасных количествах (отсутствие опасности взрыва).
- C В принципе да, если только они не изготовлены или не обработаны таким образом, что во время перевозки не могут выделяться опасные газы в опасных количествах (отсутствие опасности взрыва). Если это упомянуто в транспортном документе, то они не подпадают под действие ВОПОГ.

**ПЕРЕВОЗКИ СУХОГРУЗНЫМИ СУДАМИ**  
**Целевая тема 6: Погрузка, разгрузка и перевозка**

Номер	Источник	Правильный ответ
-------	----------	------------------

D Да, если только перед погрузкой они не хранились в сухом воздухе в течение не менее трех дней.

СГ 6003 5.2.2.2.2, 5.3.2.2.3, 5.3.4 С

Упаковки могут быть снабжены знаками опасности МПОГ, ДОПОГ или МКМПОГ. Где вы можете получить информацию о том, что означают эти знаки опасности?

A В приложении 3 к ЕПСВВП.

B В письменных инструкциях, содержащихся в разделе 5.4.3.

C В части 5 ВОПОГ.

D В свидетельстве о допущении.

СГ 6004 5.2.2.2.2 С

Каким знаком опасности маркирована упаковка, содержащая легковоспламеняющиеся жидкости класса 3?



A (черный/белый).



B (черный/белый/красный).



C (черный/красный).

**ПЕРЕВОЗКИ СУХОГРУЗНЫМИ СУДАМИ**  
**Целевая тема 6: Погрузка, разгрузка и перевозка**

Номер	Источник	Правильный ответ
-------	----------	------------------



D (черный/белый/красный).

СГ 6005 5.2.2.2.2

С

Какой знак опасности применяется к опасным грузам класса 4.3?



A (черный/оранжевый).



B (черный/белый/красный).



C (белый или черный/синий)



D (черный/белый/красный).

**ПЕРЕВОЗКИ СУХОГРУЗНЫМИ СУДАМИ**  
**Целевая тема 6: Погрузка, разгрузка и перевозка**

Номер	Источник	Правильный ответ
-------	----------	------------------

СГ 6006 5.2.2.2.2 D

Что означает знак опасности, изображенный ниже?



(черный/красный/желтый)

- A Взрывчатые вещества и изделия.
- B Легковоспламеняющиеся вещества (твердые).
- C Вещества, способные к самовозгоранию.
- D Органический пероксид.

СГ 6007 1.1.3.6.1 A

На судне перевозятся упаковки с № ООН 1428 НАТРИЕМ, класс 4.3, группа упаковки I. Какая максимальная масса этих упаковок не требует применения ВОПОГ?

- A 300 кг.
- B Освобожденное количество для этого вещества не предусмотрено.
- C 3 000 кг.
- D 30 000 кг.

СГ 6008 1.1.3.6.1, 3.2, таблица А В

На судне перевозятся упаковки с № ООН 3102 ОРГАНИЧЕСКИМ ПЕРОКСИДОМ ТИПА В ТВЕРДЫМ, класс 5.2. Какая максимальная масса этих упаковок не требует применения ВОПОГ?

- A 300 кг.
- B Освобожденное количество для этого вещества не предусмотрено.

**ПЕРЕВОЗКИ СУХОГРУЗНЫМИ СУДАМИ**  
**Целевая тема 6: Погрузка, разгрузка и перевозка**

Номер	Источник	Правильный ответ
-------	----------	------------------

- C 3 000 кг.
- D Ограничение количества для класса 5.2 не предусмотрено.

СГ 6009 1.1.3.6.1 А

На судне перевозятся упаковки с коррозионными веществами класса 8, группа упаковки III. Какая максимальная масса этих упаковок не требует применения ВОПОГ?

- A 3 000 кг.
- B 300 кг.
- C 30 000 кг.
- D Освобожденное количество для класса 8 не предусмотрено.

СГ 6010 8.3.1 D

Кроме 1 000 т листовой стали, груз, перевозимый на вашем судне, включает 30 т № ООН 1830 КИСЛОТЫ СЕРНОЙ в упакованном виде (класс 8). Можете ли вы взять на борт лиц, которые не являются членами экипажа, обычно не живут на судне или которые не находятся на борту по служебным причинам?

- A В данном случае да, так как для перевозки серной кислоты мне в любом случае не требуется свидетельство о допущении и серная кислота не является легковоспламеняющимся или взрывчатым веществом.
- B Да, но только с согласия собственника судна.
- C Да, при условии специального разрешения компетентного органа.
- D Перевозка этих лиц запрещена.

СГ 6011 7.1.5.4.3 B

На вашем судне выставлены три синих конуса. Какое минимальное расстояние вы должны соблюдать, когда ожидаете прохода перед шлюзом или мостом?

- A 50 м.

**ПЕРЕВОЗКИ СУХОГРУЗНЫМИ СУДАМИ**  
**Целевая тема 6: Погрузка, разгрузка и перевозка**

Номер	Источник	Правильный ответ
-------	----------	------------------

- B 100 м.
- C 500 м.
- D 1 000 м.

СГ 6012 7.1.4.3.1 A

Можно ли грузить в один и тот же трюм грузы класса 6.1 и грузы класса 8?

- A Да, при условии, что горизонтальное расстояние между ними составляет не менее 3 м и они не штабелированы друг на друга.
- B Да, их можно грузить совместно без соблюдения каких-либо условий.
- C Нет, грузы этих двух классов должны быть разделены водонепроницаемой переборкой трюма.
- D Нет, грузы класса 6.1 никогда не должны грузиться в один трюм с грузами других классов.

СГ 6013 7.1.4.3.4 A

Можно ли грузить в один и тот же трюм грузы класса 1, относящиеся к различным группам совместимости?

- A Да, если это следует из таблицы пункта 7.1.4.3.4.
- B Нет.
- C Совместная погрузка не запрещается, однако необходимо соблюдать предписания по штабелированию.
- D Только с согласия специалиста по взрывчатым веществам.

СГ 6014 7.1.4.3.3 D

На судне перевозятся грузы класса 1, для которых в таблице А главы 3.2 предписана сигнализация в виде трех синих конусов или огней. Можно ли грузить в тот же трюм грузы класса 6.2?



**ПЕРЕВОЗКИ СУХОГРУЗНЫМИ СУДАМИ**  
**Целевая тема 6: Погрузка, разгрузка и перевозка**

Номер	Источник	Правильный ответ
-------	----------	------------------

- A Нет, грузы этих двух классов не могут перевозиться на одном и том же судне.
- B Да, если это позволяют группы совместимости.
- C Нет, только с согласия эксперта.
- D Да, если только они находятся на расстоянии не менее 12 м друг от друга.

СГ 6015 7.1.4.3.2 С

Можно ли грузить совместно в один и тот же трюм упаковки, содержащие № ООН 1614 ВОДОРОД ЦИАНИСТЫЙ СТАБИЛИЗИРОВАННЫЙ, и упаковки с № ООН 2309 ОКТАДИЕНОМ?

- A Нет, грузы этих двух классов не могут перевозиться на одном и том же судне.
- B Да, если только между ними соблюдено горизонтальное расстояние не менее 3 м.
- C Нет, независимо от количества опасные грузы, для которых в колонке 12 таблица А главы 3.2 предписана сигнализация в виде двух синих конусов или огней, не должны грузиться в один и тот же трюм вместе с легковоспламеняющимися грузами, для которых в колонке 2 таблицы А главы 3.2 предписана сигнализация в виде одного синего конуса или огня.
- D Да, нет никакого запрета на совместную погрузку этих двух грузов.

СГ 6016 7.1.4.3, 7.1.4.4, 7.1.4.5 С

Где в ВОПОГ находятся положения, касающиеся запрещения совместной погрузки при перевозке опасных грузов всех классов?

- A В таблице А главы 3.2.
- B В таблице С главы 3.2.
- C В разделах 7.1.4.3-7.1.4.5.
- D В разделах 1.1.3.1-1.1.3.6.

**ПЕРЕВОЗКИ СУХОГРУЗНЫМИ СУДАМИ**  
**Целевая тема 6: Погрузка, разгрузка и перевозка**

Номер	Источник	Правильный ответ
-------	----------	------------------

СГ 6017 7.1.4.3 D

Можно ли размещать рядом друг с другом упаковки, содержащие различные опасные грузы?

- A Да, но знаки опасности должны быть видны.
- B Нет, в принципе нельзя.
- C Да, только применяется запрет на штабелирование упаковок.
- D Да, если только соблюдаются положения, касающиеся запрещения совместной погрузки.

СГ 6018 7.1.4.1.3 B

Ваше судно имеет свидетельство о допущении. Вы получаете распоряжение принять на борт, соблюдая положения ВОПОГ, следующие вещества и изделия:

- 20 т № ООН 0340 НИТРОЦЕЛЛЮЛОЗЫ (классификационный код 1.1D),
- 5 т № ООН 0131 ВОСПЛАМЕНИТЕЛЕЙ ОГНЕПРОВОДНОГО ШНУРА (классификационный код 1.4S),
- 10 т № ООН 0238 РАКЕТ ТРОСОМЕТАТЕЛЬНЫХ (классификационный код 1.2G).

Можете ли вы перевозить этот груз, соблюдая ограничения перевозимых количеств?

- A Да, согласно таблице ограниченных количеств для класса 1 максимально допустимые количества не превышены.
- B Нет, один из трех грузов превышает максимальную массу нетто.
- C Да, если нитроцеллюлоза погружена в наиболее удаленный передний трюм, а воспламенители огнепроводного шнура погружены в наиболее отдаленный задний трюм.
- D Да, ограничения количеств для этих веществ не предусмотрено.

**ПЕРЕВОЗКИ СУХОГРУЗНЫМИ СУДАМИ**  
**Целевая тема 6: Погрузка, разгрузка и перевозка**

Номер	Источник	Правильный ответ
-------	----------	------------------

СГ 6019 7.1.5.2 А

На судно погружены взрывчатые вещества и изделия. На каком расстоянии от других судов должно в максимально возможной мере держаться на ходу такое судно?

- A 50 м.
- B 100 м.
- C 10 м.
- D 20 м.

СГ 6020 1.1.3.6.1, 3.2, таблица А А

Вы принимаете на борт вашего сухогрузного судна, в частности, партию груза, состоящую из 25 т № ООН 1223 КЕРОСИНА в упакованном виде (стальные барабаны). Должно ли ваше судно, с учетом характера этого опасного груза, нести сигнализацию в виде одного синего конуса или огня?

- A Нет, для КЕРОСИНА не предписана никакая сигнализация.
- B Нет, так как масса брутто груза не превышает 25 т.
- C Да, все суда, перевозящие грузы класса 3, должны нести сигнализацию в виде одного синего конуса или огня.
- D Да, так как превышена масса брутто в 3 000 кг.

СГ 6021 1.1.3.6.1, 3.2, таблица А А

Вы перевозите на сухогрузном судне, в частности, партию груза, состоящую из 30 т № ООН 1263 КРАСКИ или МАТЕРИАЛА ЛАКОКРАСОЧНОГО, группа упаковки I, в упакованном виде (стальные барабаны). Должно ли ваше судно, с учетом характера этого опасного груза, нести сигнализацию в виде одного синего конуса или огня?



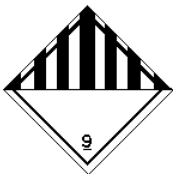

- A Да, так как масса брутто этого груза превышает 300 кг.

**ПЕРЕВОЗКИ СУХОГРУЗНЫМИ СУДАМИ**  
**Целевая тема 6: Погрузка, разгрузка и перевозка**

Номер	Источник	Правильный ответ
	<p>B Да, все суда, перевозящие грузы класса 3, должны нести сигнализацию в виде одного синего конуса или огня.</p> <p>C Нет, из-за этого дополнительного груза судну нет необходимости нести какую-либо особую сигнализацию.</p> <p>D Нет, сигнализация в виде одного синего конуса или огня требуется только для танкеров.</p>	
СГ 6022	7.1.4.1.3	D
	<p>На сухогрузном судне с одинарным корпусом вы перевозите только № ООН 3101 ОРГАНИЧЕСКИЙ ПЕРОКСИД ТИПА В ЖИДКИЙ. Какое максимальное количество этого вещества допускается к перевозке?</p>	
	<p>A 300 000 кг.</p> <p>B 100 000 кг.</p> <p>C 50 000 кг.</p> <p>D) 15 000 кг.</p>	
СГ 6023	Базовые общие знания	A
	<p>Для чего упаковки маркируются знаками опасности?</p>	
	<p>A Символы позволяют, в частности, узнать, какие виды опасности может представлять опасный груз.</p> <p>B Грузополучатель должен знать, какая упаковка предназначена для него.</p> <p>C Судоводитель должен быть предупрежден о том, что он должен грузить все упаковки, снабженные знаками опасности, только на палубу.</p> <p>D Маркировка упаковок знаками опасности должна прежде всего облегчить таможенное оформление при трансграничных перевозках.</p>	
СГ 6024	5.2.2.2.2	B
	<p>Какой из следующих знаков опасности указывает на коррозионные опасные свойства упаковки?</p>	

**ПЕРЕВОЗКИ СУХОГРУЗНЫМИ СУДАМИ**  
**Целевая тема 6: Погрузка, разгрузка и перевозка**

Номер	Источник	Правильный ответ
-------	----------	------------------

- A  (черный/белый).
- B  (черный/белый).
- C  (черный/белый).
- D  (черный /желтый).

СГ 6025 5.2.2.2.2

A

Какой из следующих знаков опасности указывает на токсичные опасные свойства упаковки?

- A  (черный/белый).

**ПЕРЕВОЗКИ СУХОГРУЗНЫМИ СУДАМИ**  
**Целевая тема 6: Погрузка, разгрузка и перевозка**

Номер	Источник	Правильный ответ
-------	----------	------------------



B (черный/желтый).



C (черный/белый/красный).



D (черный/белый).

СГ 6026 5.2.2.2.2, 5.3 C

Где в ВОПОГ находятся образцы знаков опасности, предписанных международными правилами?

- A Часть 1, раздел 1.2.1.
- B Часть 3, таблица В.
- C Часть 5, главы 5.2 и 5.3.
- D Часть 7, пункт 7.1.5.0.2.

СГ 6027 5.2.2, 3.2, таблица А А

На упаковку нанесены два различных знака опасности. Что это означает?

- A Эта упаковка представляет несколько видов опасности.
- B Эта упаковка может перевозиться только в пределах портовой зоны, но не по свободной реке.
- C Запрещается совместная погрузка с другими опасными грузами.

**ПЕРЕВОЗКИ СУХОГРУЗНЫМИ СУДАМИ**  
**Целевая тема 6: Погрузка, разгрузка и перевозка**

Номер	Источник	Правильный ответ
-------	----------	------------------

D Полиция должна быть информирована об этой перевозке опасных грузов.

СГ 6028 Базовые общие знания А

Кроме опасности возникновения пожара, некоторые вещества класса 3 представляют еще один вид опасности. Как можно указать на упаковке этот другой вид опасности?

- A Путем маркировки упаковки дополнительным знаком опасности.
- B Путем соответствующей записи в транспортном документе.
- C Путем указания над знаком опасности номера ООН опасного груза в виде печатных знаков высотой не менее 3 см.
- D Путем выделения (подчеркнуть красным цветом) дополнительной опасности в письменных инструкциях.

СГ 6029 7.1.4.4.2 В

При каких условиях можно грузить в один и тот же трюм грузы классов 6.1 и 8, помещенные в различные контейнеры со сплошными металлическими стенками?

- A Их ни в коем случае нельзя грузить в один и тот же трюм.
- B Всегда, без каких-либо условий.
- C Между грузами различных классов должно соблюдаться горизонтальное расстояние не менее 3 м.
- D Их можно размещать в одном трюме, но не штабелировать.

СГ 6030 7.1.4.3 С

Вы должны погрузить № ООН 1716 АЦЕТИЛБРОМИД в упакованном виде. Какое из следующих утверждений является **неправильным**?

**ПЕРЕВОЗКИ СУХОГРУЗНЫМИ СУДАМИ**  
**Целевая тема 6: Погрузка, разгрузка и перевозка**

Номер	Источник	Правильный ответ
-------	----------	------------------

- A Между упаковками, содержащими АЦЕТИЛБРОМИД, и жилыми помещениями, машинными отделениями, рубкой и источниками тепла должно соблюдаться расстояние не менее 1 м.
- B Упаковки не должны грузиться в один и тот же трюм вместе с опасными грузами, для которых предписана сигнализация в виде трех синих конусов или огней.
- C Упаковки с АЦЕТИЛБРОМИДОМ должны быть отделены от упаковок, не содержащих опасные грузы.
- D Упаковки должны быть защищены от неблагоприятных погодных условий.

СГ 6031 1.1.3.6.1, 3.2, таблица А

C

Какое максимальное количество № ООН 1428 НАТРИЯ в упакованном виде вы можете перевозить на судне без применения положений ВОПОГ?

- A 50 кг.
- B Для класса 4.3 не предусмотрено освобожденных количеств.
- C 300 кг.
- D 5 000 кг.

СГ 6032 7.1.4.1.3

B

Вы должны перевозить в упакованном виде единственный опасный груз класса 2 с буквами "TF". Какой должна быть максимально допустимая масса брутто, если речь **не** идет о судне с двойным корпусом в соответствии с требованиями ВОПОГ?

- A 50 000 кг.
- B 120 000 кг.
- C 300 000 кг.
- D Масса не ограничена.



**ПЕРЕВОЗКИ СУХОГРУЗНЫМИ СУДАМИ**  
**Целевая тема 6: Погрузка, разгрузка и перевозка**

Номер	Источник	Правильный ответ
СГ 6033	5.2.2.2.2	В



(красный, белый, черный)

Что означает знак опасности, изображенный выше?

- A Соответствующий опасный груз является легковоспламеняющимся веществом (жидкости).
- В Соответствующий опасный груз является легковоспламеняющемся веществом (твердые вещества).
- С Соответствующий опасный груз выделяет легковоспламеняющиеся газы при соприкосновении с водой.
- D Соответствующий опасный груз является взрывчатым веществом или изделием.

СГ 6034 5.2.2.2.2 А



(зеленый/черный)

Что означает знак опасности, изображенный выше?

- A Соответствующий опасный груз является невоспламеняющимся газом.
- В Соответствующий опасный груз является органическим пероксидом.
- С Соответствующий опасный груз является коррозионным веществом.
- D Соответствующий опасный груз является токсичным веществом.

**ПЕРЕВОЗКИ СУХОГРУЗНЫМИ СУДАМИ**  
**Целевая тема 6: Погрузка, разгрузка и перевозка**

Номер	Источник	Правильный ответ
СГ 6035	5.2.2.2.2	В



(черный/белый)

Что означает знак опасности, изображенный выше?

- A Соответствующий опасный груз является невоспламеняющимся газом.
- B Соответствующий опасный груз является коррозионным веществом.
- C Соответствующий опасный груз является органическим пероксидом.
- D Соответствующий опасный груз является токсичным веществом.

СГ 6036 5.2.2.2.2

В



(белый/черный)

Что означает знак опасности, воспроизведенный выше?





- A Соответствующий опасный груз выделяет легковоспламеняющиеся газы при соприкосновении с водой.
- B Соответствующий опасный груз является инфекционным веществом.
- C Соответствующий опасный груз является токсичным веществом.
- D Соответствующий опасный груз не должен грузиться совместно с другими веществами на одно и то же судно.

**ПЕРЕВОЗКИ СУХОГРУЗНЫМИ СУДАМИ**  
**Целевая тема 6: Погрузка, разгрузка и перевозка**

Номер	Источник	Правильный ответ
-------	----------	------------------

СГ 6037 5.2.2.2.2 D

Какой из изображенных ниже знаков опасности указывает на то, что в упаковке содержатся вещества, способные к самовозгоранию?

- A  (оранжевый/черный).
- B  (красный/черный).
- C  (красный/белый/черный).
- D  (красный/белый/черный).


СГ 6038 5.2.2.2.2 D

Каким из изображенных ниже знаков опасности должна быть маркирована упаковка, содержащая коррозионные вещества?

**ПЕРЕВОЗКИ СУХОГРУЗНЫМИ СУДАМИ**  
**Целевая тема 6: Погрузка, разгрузка и перевозка**

Номер	Источник	Правильный ответ
-------	----------	------------------

A  (оранжевый/черный).

B  (красный/белый/черный).


C  (белый/черный).

D  (белый/черный).

СГ 6039 5.2.2.2.2

В

Каким знаком опасности должны маркироваться перевозимые в упаковках окисляющие вещества?

A  (красный/белый/черный).

B  (желтый/черный).

**ПЕРЕВОЗКИ СУХОГРУЗНЫМИ СУДАМИ**  
**Целевая тема 6: Погрузка, разгрузка и перевозка**

Номер	Источник	Правильный ответ
-------	----------	------------------

C  (белый/черный).

D  (белый/черный).


СГ 6040 5.2.2.2.2


C

Каким знаком опасности должны маркироваться упаковки, содержащие легковоспламеняющиеся твердые вещества?

A  (белый/черный).

B  (белый/черный).

C  (красный/белый/черный).

D  (красный/белый/черный).





**ПЕРЕВОЗКИ СУХОГРУЗНЫМИ СУДАМИ**  
**Целевая тема 6: Погрузка, разгрузка и перевозка**

Номер	Источник	Правильный ответ
-------	----------	------------------

СГ 6041 5.2.2.2.2

В

Каким знаком опасности должны маркироваться упаковки, содержащие легковоспламеняющиеся газы?

- A  (оранжевый/черный).
- B  (красный/черный).
- C  (синий/белый или черный).
- D  (желтый/черный).





СГ 6042 5.2.2.2.2

А

Каким знаком опасности должны маркироваться упаковки, содержащие взрывчатые вещества?

**ПЕРЕВОЗКИ СУХОГРУЗНЫМИ СУДАМИ**  
**Целевая тема 6: Погрузка, разгрузка и перевозка**

Номер	Источник	Правильный ответ
-------	----------	------------------

- A  (оранжевый/черный).
- B  (красный/черный).
- C  (красный/белый/черный).
- D  (красный/белый/черный).

СГ 6043 7.1.4.3.3 А

Могут ли упаковки, содержащие грузы класса 6.1, грузиться совместно в один и тот же трюм с упаковками, содержащими грузы класса 5.2, для которых в таблице А главы 3.2 предписана сигнализация в виде трех синих конусов или огней?

- A Да, если расстояние между упаковками составляет не менее 12 м.
- B Нет, это запрещено, т.к. упаковки, содержащие грузы класса 6.1, должны иметь сигнализацию в виде по меньшей мере двух синих конусов или огней.
- C Да, если упаковки уложены в металлические контейнеры со сплошными стенками.

**ПЕРЕВОЗКИ СУХОГРУЗНЫМИ СУДАМИ**  
**Целевая тема 6: Погрузка, разгрузка и перевозка**

Номер	Источник	Правильный ответ
-------	----------	------------------

D Нет, не разрешается иметь на борту одного и того же судна грузы классов 6.1 и 5.2.

СГ 6044 7.1.4.3.1 А

Можно ли грузить совместно грузы классов 6.1 и 6.2?

A Да, но между ними должно быть соблюдено горизонтальное расстояние не менее 3 м.

B Да, но они должны быть штабелированы.

C Нет, это не разрешается.

D Да, но не в один и тот же трюм.

СГ 6045 7.1.4.3.1 D

Можно ли грузить совместно грузы классов 3 и 6.1, если ни для одного из них не предписана сигнализация в виде конусов?

A Да, если они штабелированы.

B Да, но не в один и тот же трюм.

C Нет, это не разрешается.

D Да, но между ними должно быть соблюдено горизонтальное расстояние не менее 3 м.

СГ 6046 5.2.2.2.2 А

На упаковку наклеены два различных знака опасности. Что это означает?

A Эта упаковка представляет несколько видов опасности.

B Эта упаковка может перевозиться только в пределах портовой зоны, но не по свободной реке.

C Запрещается совместная погрузка с другими опасными грузами.

D Полиция должна быть информирована об этой перевозке опасных грузов.



**ПЕРЕВОЗКИ СУХОГРУЗНЫМИ СУДАМИ**  
**Целевая тема 6: Погрузка, разгрузка и перевозка**

Номер	Источник	Правильный ответ
-------	----------	------------------

СГ 6047 7.1.4.1 С

К перевозке некоторых опасных грузов применяются положения, касающиеся максимально допустимых масс брутто (ограничение перевозимых количеств). Где в ВОПОГ содержатся эти положения?

- A Пункт 1.2.2.2.2.
- B Глава 3.2.
- C Подраздел 7.1.4.1.
- D Подраздел 9.3.2.23

СГ 6048 7.1 В

Где в ВОПОГ содержатся предписания, касающиеся погрузки, выгрузки и обработки груза и применимые к опасным грузам всех классов, перевозимым сухогрузными судами?

- A Глава 1.1.
- B Глава 7.1.
- C Глава 7.2.
- D Глава 8.2.

СГ 6049 7.1.3.42 В

Что предписывает ВОПОГ в отношении обогрева трюмов?

- A Обогрев трюмов всегда разрешается.
- B Обогрев трюмов запрещается.
- C Обогрев трюмов предписывается в некоторых случаях.
- D Обогрев трюмов разрешается только с согласия погрузчика.

**ПЕРЕВОЗКИ СУХОГРУЗНЫМИ СУДАМИ**  
**Целевая тема 6: Погрузка, разгрузка и перевозка**

Номер	Источник	Правильный ответ
-------	----------	------------------

СГ 6050 5.2.2.2.2

D



(оранжевый/черный)

Что означает знак опасности, изображенный выше?

- A Соответствующее вещество является легковоспламеняющимся (жидкость).
- B Соответствующее вещество является легковоспламеняющимся (твердое вещество).
- C Соответствующее вещество выделяет легковоспламеняющиеся газы при соприкосновении с водой.
- D Соответствующее вещество является взрывчатым.

Где могут погружаться или выгружаться упакованные опасные грузы, для которых требуется один синий конус или огонь?

- A В местах, утвержденных для этой цели компетентным органом.
- B Во всех местах, расположенных за пределами жилых зон.
- C В нефтяных портах.
- D Во всех местах, которые судоводитель сочтет подходящими.

СГ 6052 7.1.4.3.4

A

В каком классе нужно учитывать группу совместимости для соблюдения запрещений совместной погрузки упакованных грузов?

- A Класс 1.
- B Класс 2.
- C Класс 3.
- D Класс 6.1.

**ПЕРЕВОЗКИ СУХОГРУЗНЫМИ СУДАМИ**  
**Целевая тема 6: Погрузка, разгрузка и перевозка**

Номер	Источник	Правильный ответ
-------	----------	------------------

СГ 6053 7.1.4.3.2 D

Можно ли грузить в один и тот же трюм вместе с другими грузами упаковки, содержащие грузы класса 6.1, для которых в таблице А главы 3.2 предписана сигнализация в виде двух синих конусов или огней?

- A Нет, они могут грузиться в один и тот же трюм только с грузами класса 6.1.
- B Да, они могут грузиться в один и тот же трюм вместе со всеми другими грузами, за исключением пищевых продуктов, других предметов потребления и кормов для животных.
- C Нет, они не могут грузиться в один и тот же трюм ни с каким другим опасным грузом.
- D Да, они могут грузиться в один и тот же трюм со всеми другими опасными грузами, за исключением легковоспламеняющихся грузов, для которых в таблице А главы 3.2 предписана сигнализация в виде одного синего конуса или огня.

СГ 6054 7.1.4.4.2 A

Вы хотите погрузить грузы классов 6.1 и 8, помещенные в **металлические** контейнеры **со сплошными стенками**. Каким должно быть горизонтальное расстояние между ними?

- A Минимальные разделительные расстояния не предписаны.
- B 3 м.
- C 2 м.
- D 2,5 м.

СГ 6055 7.1.4.3.1 D

Вы хотите перевозить грузы классов 6.1 и 6.2, уложенные на поддоны. Какое горизонтальное расстояние должно разделять эти грузы?

**ПЕРЕВОЗКИ СУХОГРУЗНЫМИ СУДАМИ**  
**Целевая тема 6: Погрузка, разгрузка и перевозка**

Номер	Источник	Правильный ответ
-------	----------	------------------

- A 2,4 м.
- B 2,6 м.
- C 2,8 м.
- D 3 м.

СГ 6056 7.1.4.3.3 В

Можно ли грузить упаковки, содержащие грузы класса 1, для которых предписана сигнализация в виде трех синих конусов или огней, с грузами класса 6?

- A Да, если между ними соблюдено горизонтальное расстояние не менее 3 м.
- B Да, если между ними соблюдено горизонтальное расстояние не менее 12 м.
- C Нет.
- D Да, если они штабелированы.

СГ 6057 7.1.4.3 А

Вы должны перевозить вещества классов 6.1 и 8, для которых в таблице А главы 3.2 не предписано никакой сигнализации. Могут ли эти вещества грузиться в один и тот же трюм?

- A Да.
- B Нет, они должны быть погружены на палубе.
- C Нет, они не могут перевозиться на одном и том же судне.
- D Нет, они должны быть погружены в отдельные трюмы.

СГ 6058 7.1.4.9 В

Когда можно перегружать груз за пределами утвержденных для этой цели мест?

**ПЕРЕВОЗКИ СУХОГРУЗНЫМИ СУДАМИ**  
**Целевая тема 6: Погрузка, разгрузка и перевозка**

Номер	Источник	Правильный ответ
-------	----------	------------------

- A На этот счет нет специальных предписаний.
- B Когда это разрешено компетентным органом.
- C При перегрузке на рейде.
- D За пределами застроенных зон.

СГ 6059 7.1.4.4.2 А

Два металлических контейнера со сплошными стенками штабелированы друг на друга. Один из них загружен токсичными веществами класса 6.1, другой – коррозионными веществами класса 8. Разрешается ли это?

- A Да.
- B Нет.
- C Да, но только если они погружены **над** палубой.
- D Да, но только если они погружены **под** палубой.

СГ 6060 7.1.4.4.3 В

Вы получаете для перевозки следующие контейнеры:

- контейнер с брезентовым верхом (без закрытой металлической крышки), загруженный веществами класса 3;
- контейнер с брезентовым верхом (без закрытой металлической крышки), загруженный веществами класса 5.1.

Какое минимальное расстояние нужно соблюдать между двумя контейнерами?

- A 5 м.
- B 2,4 м.
- C 4,8 м.
- D 10 м.

**ПЕРЕВОЗКИ СУХОГРУЗНЫМИ СУДАМИ**  
**Целевая тема 6: Погрузка, разгрузка и перевозка**

Номер	Источник	Правильный ответ
-------	----------	------------------

СГ 6061 3.2, таблица А, 7.1.5.0.2 С

Кроме грузов, для которых не требуется сигнализации в виде синего конуса, вы перевозите на вашем судне еще два контейнера с № ООН 1397 АЛЮМИНИЯ ФОСФИДОМ общей массой 50 000 кг. Какая сигнализация должна быть выставлена на судне?

- A Никакой сигнализации.
- B 1 синий конус/синий огонь.
- C 2 синих конуса/синих огня.
- D 3 синих конуса/синих огня.

СГ 6062 7.1.5.0.2 А

На вашем судне вы перевозите, в частности, контейнер, содержащий 5 200 кг № ООН 1950 АЭРОЗОЛЕЙ легко воспламеняющихся, класс 2, классификационный код 5F. Какая сигнализация должна быть выставлена на судне?

- A Никакой сигнализации.
- B 1 синий конус/синий огонь.
- C 2 синих конуса/синих огня.
- D 3 синих конуса/синих огня.

СГ 6063 7.1.4.1.3 С

Где в ВОПОГ указана допустимая масса брутто (ограничение перевозимых количеств) при перевозке некоторых опасных грузов?

- A Пункт 1.1.3.6.1.
- B Раздел 3.2.1.
- C Пункт 7.1.4.1.3.
- D Пункт 7.1.5.0.2.

**ПЕРЕВОЗКИ СУХОГРУЗНЫМИ СУДАМИ**  
**Целевая тема 6: Погрузка, разгрузка и перевозка**

Номер	Источник	Правильный ответ
-------	----------	------------------

СГ 6064 1.1.3.6.1, 3.2, таблица А В

На сухогрузном судне вы перевозите 2 500 кг № ООН 1159 ЭФИРА ИЗОПРОПИЛОВОГО. Какая сигнализация должна быть выставлена на вашем судне?

- A Синий конус или огонь.
- B При перевозке этого опасного груза судно не должно нести сигнализации.
- C Два синих конуса или огня.
- D Оранжевое табло согласно МПОГ/ДОПОГ.

СГ 6065 7.1.5.0.2 D

На вашем судне вы перевозите в закрытых контейнерах следующие опасные грузы:

- 50 стальных барабанов, в каждом из которых содержится 200 л № ООН 1100 АЛЛИЛХЛОРИДА, класс 3 (6.1), группа упаковки I, общей массой 11 000 кг;
- 100 пластмассовых канистр, в каждой из которых содержится 20 л № ООН 2256 ЦИКЛОГЕКСЕНА, класс 3, группа упаковки II, общей массой 1 850 кг.

Какая сигнализация должна быть выставлена на вашем судне?

- A 2 синих конуса/синих огня.
- B 1 синий конус/синий огонь.
- C Это решает лицо, дающее полномочия.
- D Никакой сигнализации.

СГ 6066 7.1.5.0.2 А

На вашем судне вы перевозите в закрытых контейнерах следующий опасный груз:

**ПЕРЕВОЗКИ СУХОГРУЗНЫМИ СУДАМИ**  
**Целевая тема 6: Погрузка, разгрузка и перевозка**

Номер	Источник	Правильный ответ
-------	----------	------------------

- 500 стальных барабанов, в каждом из которых содержится 200 л № ООН 1100 АЛЛИЛХЛОРИДА, класс 3 (6.1), группа упаковки I, общей массой 110 000 кг.

Какая сигнализация должна быть выставлена на вашем судне?

- A 2 синих конуса/синих огня.
- B 1 синий конус/синий огонь.
- C Это решает лицо, дающее полномочия.
- D Никакой сигнализации.

СГ 6067 7.1.5.0.1

B

На борту вашего судна вы перевозите 10 контейнеров-цистерн, в каждом из которых содержится 24 т № ООН 1203 БЕНЗИНА МОТОРНОГО, класс 3, группа упаковки II.

Какая сигнализация должна быть выставлена на вашем судне?

- A 2 синих конуса/синих огня.
- B 1 синий конус/синий огонь.
- C Это решает лицо, дающее полномочия.
- D Никакой сигнализации.

СГ 6068 7.1.5.0.2

D

На борту вашего судна вы перевозите в закрытых контейнерах следующий опасный груз:

- 500 стальных барабанов, в каждом из которых содержится 200 л № ООН 1230 МЕТАНОЛА, класс 3 (6.1), группа упаковки II, общей массой 85 000 кг.



**ПЕРЕВОЗКИ СУХОГРУЗНЫМИ СУДАМИ**  
**Целевая тема 6: Погрузка, разгрузка и перевозка**

Номер	Источник	Правильный ответ
-------	----------	------------------

Какая сигнализация должна быть выставлена на вашем судне?

- A 2 синих конуса/синих огня.
- B 1 синий конус/синий огонь.
- C Это решает лицо, дающее полномочия.
- D Никакой сигнализации.

СГ 6069 7.1.4.4

B

Вы грузите на ваше судно контейнер со сплошными металлическими стенками, в котором размещены:

- 10 барабанов, в каждом из которых содержится 200 л № ООН 1100 АЛЛИЛХЛОРИДА, класс 3 (6.1), группа упаковки I, и еще один контейнер со сплошными металлическими стенками, в котором размещены:
- 100 пластмассовых канистр, в каждой из которой содержится 20 л № ООН 2256 ЦИКЛОГЕКСЕНА, класс 3, группа упаковки II.

Можно ли размещать эти два контейнера рядом в одном и том же трюме?

- A Нет, так как вещества, для которых предписана сигнализация в виде одного синего конуса, не могут грузиться в один и тот же трюм с веществами, для которых предписана сигнализация в виде двух синих конусов.
- B Да, так как оба вещества находятся в контейнерах со сплошными металлическими стенками.
- C Нет, так как опасные вещества различных классов никогда не должны грузиться в один и тот же трюм.
- D Да, контейнеры могут грузиться в один и тот же трюм, но только при условии соблюдения между ними расстояния, равного 3 м.

**ПЕРЕВОЗКИ СУХОГРУЗНЫМИ СУДАМИ**  
**Целевая тема 6: Погрузка, разгрузка и перевозка**

Номер	Источник	Правильный ответ
-------	----------	------------------

СГ 6070 5.2.1.8.3

D

Какой из следующих знаков опасности указывает на вещества, опасные для окружающей среды?



A (белый/черный).



B (красный/черный).



C (белый/черный).



D (белый/черный).

-----